

Grössen, Funktionen und Daten

Arbeitsblätter



1/2

Übung 11



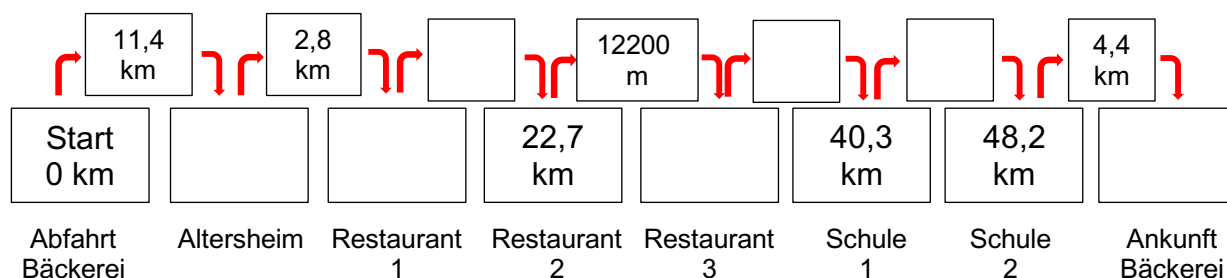
Berechne die Distanzen.

Auslieferung

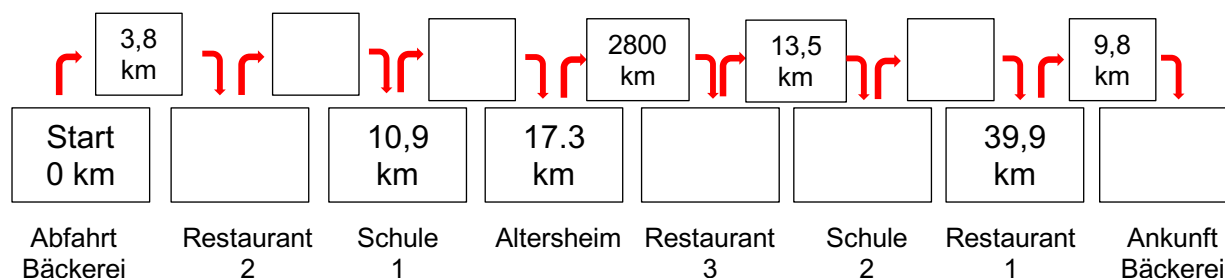
Die verschiedenen Routen dauern nicht nur zeitlich verschieden, sie sind je nach Weg auch verschieden lang.

1. Berechne die Distanzen der verschiedenen Routen.

Route 1



Route 2



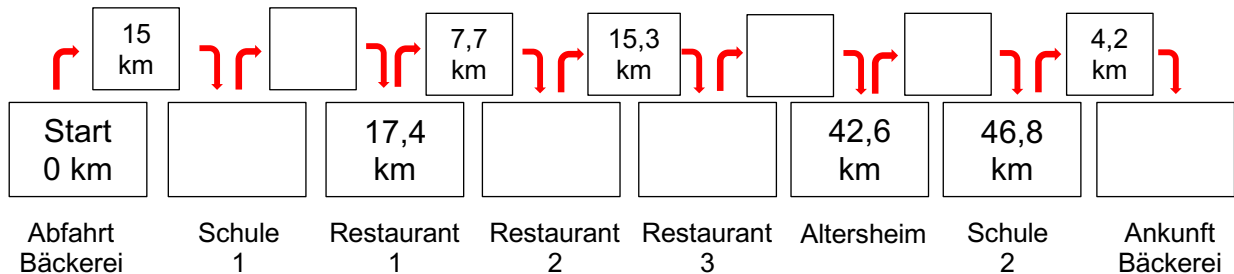
Grössen, Funktionen und Daten

Arbeitsblätter

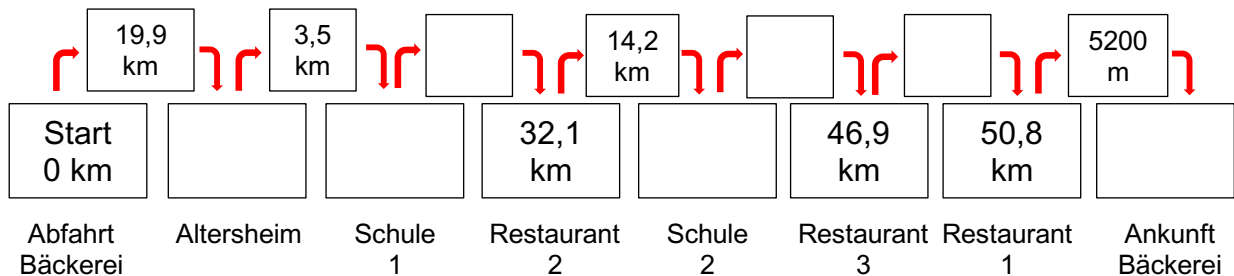


2/2

Route 3



Route 4



2. Ordne die Routen von der kürzesten zur längsten Distanz:

1. _____ 2. _____
 3. _____ 4. _____

3. Was überrascht dich, wenn du die Distanzen dieser Routen mit den Fahrzeiten aus der Übung 10 vergleichst?

4. Wie könnten mögliche Erklärungen dafür sein?
