

Grössen, Funktionen und Daten

Lösungen



1/2

Übung 10



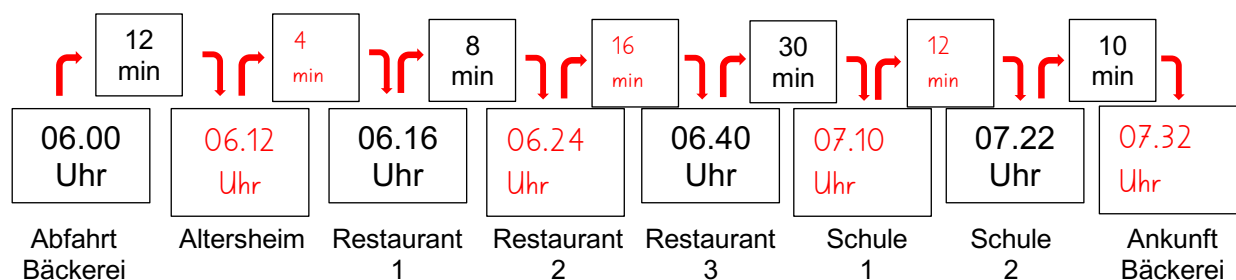
Berechne die Uhrzeiten.

Auslieferung

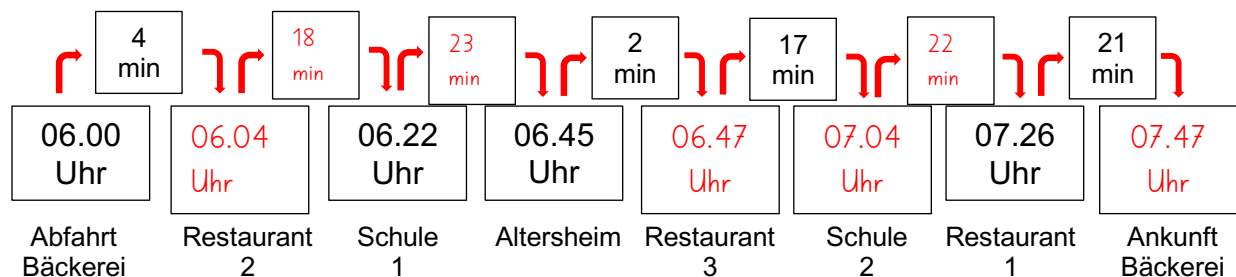
Auslieferer Emil steht um 6.00 Uhr bereit, um die Backwaren auszuliefern. Er liefert ins Altersheim, drei Restaurants und zwei Schulen. Es gibt verschiedene Routen, die Emil fahren könnte, die verschieden lange dauern.

1. Berechne die Abfahrts-, Ankunfts- und Fahrzeiten der verschiedenen Routen.

Route 1



Route 2



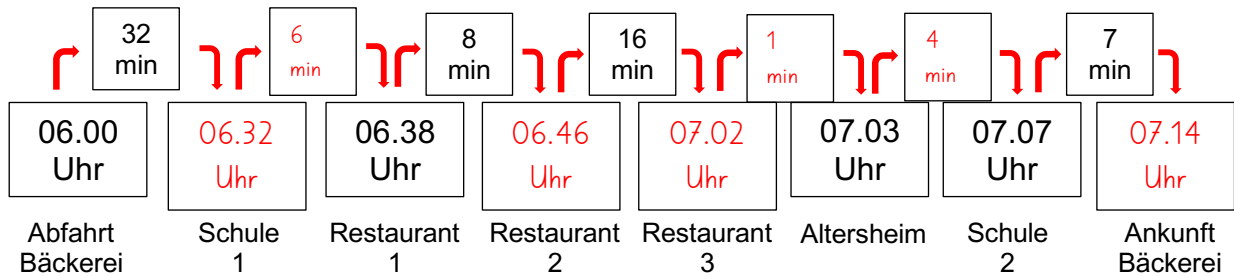
Grössen, Funktionen und Daten

Lösungen

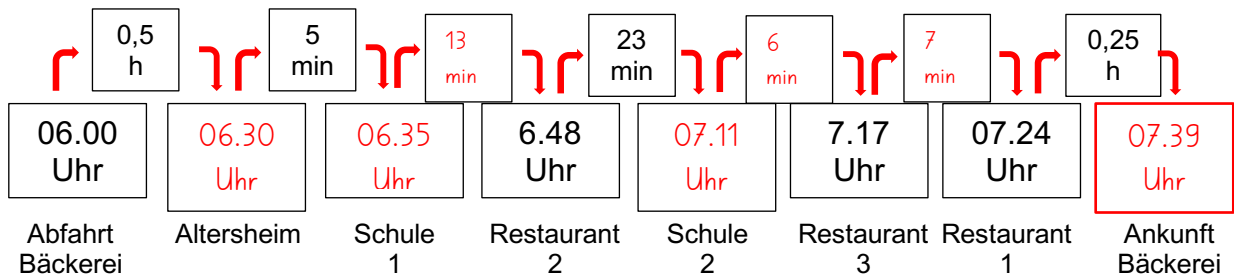


2/2

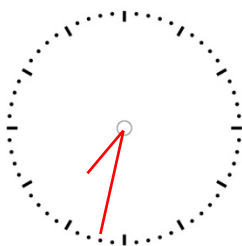
Route 3



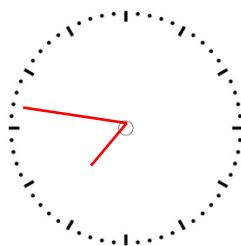
Route 4



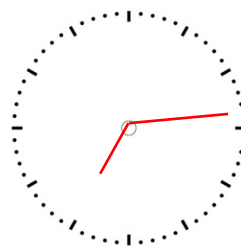
2. Zeichne die Ankunftszeiten der verschiedenen Routen in die Zifferblätter



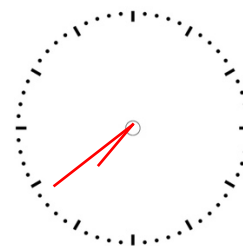
Route 1



Route 2



Route 3



Route 4

3. Welche Route sollte Emil nehmen, damit er pünktlich um 7.30 Uhr zurück in der Bäckerei ist?

Route 3