

# Grössen, Funktionen und Daten

Arbeitsblätter



1/2

## Übung 2



Rechne mit Gewichten und Hohlmassen.

1. Verbinde die Bilder mit den entsprechenden Grössen.



1 l

100 g

4 g

180 g

42 g

12 kg

20cl

5 kg

1 kg

9 l

250 g

750 ml




# Grössen, Funktionen und Daten

Arbeitsblätter

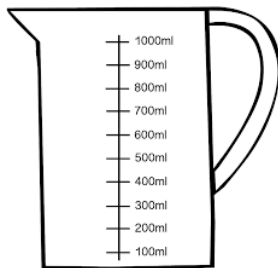


2/2

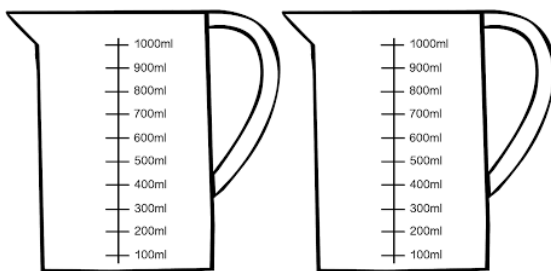
2. Zeichne die richtige Menge in die Messbecher und ergänze die Lücken



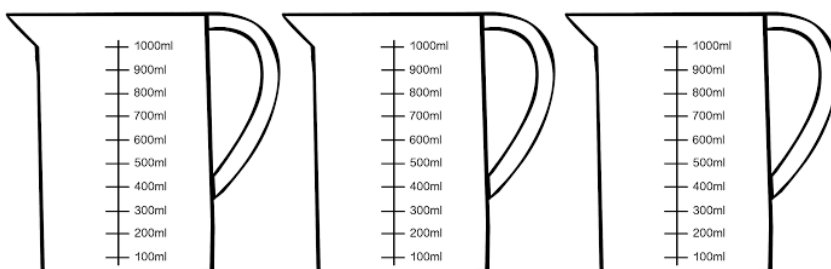
$$4,5 \text{ dl} = \underline{\hspace{2cm}} \text{ cl} = \underline{\hspace{2cm}} \text{ ml}$$



$$675 \text{ ml} = \underline{\hspace{2cm}} \text{ l} = \underline{\hspace{2cm}} \text{ cl}$$



$$1,35 \text{ l} = \underline{\hspace{2cm}} \text{ dl} = \underline{\hspace{2cm}} \text{ cl}$$



$$275 \text{ cl} = \underline{\hspace{2cm}} \text{ l}$$